

Pozdravljeni, učenci 7.b!

Kar pridni ste pri svojem delu na daljavo. Sedaj smo pri obravnavanju naše Azije spoznali kar veliko novega.

Kaj pa je tisto, kar bi bilo dobro razumeti in znati? Lahko si prepišeš v zvezek!

- Na zemljevidu opisati lego Azije.
- Na zemljevidu pokazati polotoke, otoke in morja, ki jo oblivajo.
- Našteti glavne naravne enote (gorovja, višavja, nižavja) in jih pokazati na karti.
- Našteti dejavnike, ki vplivajo na podnebje v Aziji.
- Na karti pokazati kateri deli prejmejo največ padavin in razložiti vzroke za to.
- Na karti pokazati območja, ki prejmejo najmanj padavin in razložiti vzroke za to.
- Našteti tiste tipe podnebja, ki jih v Evropi še nismo spoznali ter jih opisati.
- Razložiti kaj so MONSUNI, zakaj nastajajo in opisati njihov vpliv na življenje ljudi.
- Našteti še druge vremenske nevšečnosti, ki pogosto prizadenejo azijsko celino.

**Ker ne vem, kako ste zgoraj naštete vsebine razumeli, vas vabim na geografsko uro v živo, kjer vam bom pomembne stvari še enkrat razložila, vi pa me boste lahko kaj vprašali.**


Ura v živo bo v **četrtek, 9. 4. ob 10.15** (kakor je sicer po urniku 😊)

Uporabljali bomo program **Zoom**.

Vse kar morate narediti je:

- klikniti na spodnjo povezavo,

<https://us04web.zoom.us/j/891983689?pwd=UHQ1T0tQTmU0R3lOZUttQUxHdmZrZz09>



Meeting ID: 891 983 689

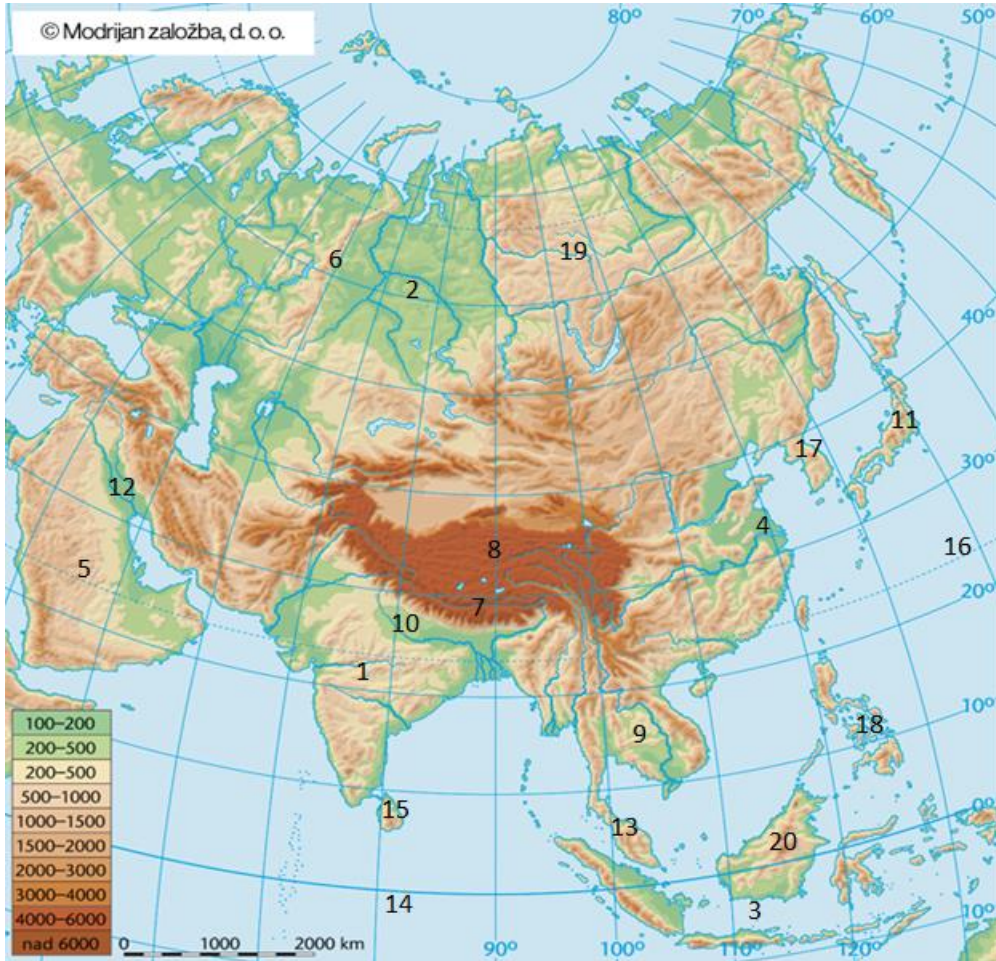
Password: 001796

- naložiti si program Zoom (računalnik/telefon), slediti navodilom,
- pridružiti se spletnemu učenju.

**V kolikor se srečanja ne boš mogel udeležiti, boš prikrajšan za nekaj pozitivne energije in optimizma v tem času. 😊**


**P.S. Do takrat zaključi in dopolni, kar ti za ta teden še ni uspelo narediti! Časa imaš dovolj!**

Učiteljica Andreja



**KAKO DOBRO POZNAM AZIJO?** Če imaš tiskalnik, lahko karto natisneš, v kolikor ga nimaš, pa v zvezek zapiši VAJA in napiši le rešitve. POIMENUJ OZNAČE DELE!

- 1 – ime polotoka: \_\_\_\_\_
- 2 – ime nižavja: \_\_\_\_\_
- 3 – ime otočja: \_\_\_\_\_
- 4 – ime nižavja: \_\_\_\_\_
- 5 – ime polotoka: \_\_\_\_\_
- 6 – ime gorovja: \_\_\_\_\_
- 7 – ime gorovja: \_\_\_\_\_
- 8 – ime višavja: \_\_\_\_\_
- 9 – ime polotoka: \_\_\_\_\_
- 10 – ime nižavja: \_\_\_\_\_
- 11 – ime otočja: \_\_\_\_\_
- 12 – ime nižavja: \_\_\_\_\_
- 13 – ime polotoka: \_\_\_\_\_
- 14 – ime oceana: \_\_\_\_\_
- 15 – ime otoka: \_\_\_\_\_
- 16 – ime oceana: \_\_\_\_\_



17 – ime polotoka: \_\_\_\_\_ 18 – ime otočja: \_\_\_\_\_

19 – ime višavja: \_\_\_\_\_ 20 – ime otoka: \_\_\_\_\_

- Na karti v atlasu pokaži reke: Ganges, Modro reko, Evfrat, Tigris, Ind, Mekong, Rumeno reko.
- Poskusi brez atlasa, če pa ne gre, ga pa odpri na str. 91!

**Za ta teden je to vse! Ponovi, utrdi, uredi zapiske in mi piši, če kaj ni jasno! Andreja**

