

Pozdravljeni, osmošolci!

Z našo skupno videokonferenco smo zaključili obravnavanje Avstralije in Oceanije. Kot sem že napovedala, se selimo na zahodno poloblo, V AMERIKO.



nov večji naslov v zvezek: **AMERIKA**

Na kaj pomisliš ob tej besedi?

Pomotoma najdena celina

Celino na našem zahodu so že pred več kot deset tisoč leti poselili predniki Indijancev, pred več kot tisoč leti so jo poznali tudi Vikingi. Na njenem ozemlju so si celo uredili začasna bivališča, ki pa so zaradi neprijaznih domačinov in hladnega podnebja obstajala le kratek čas. Nato so Evropejci na celino na zahodu pozabili in jo pomotoma ponovno našli, ko so iskali pomorsko pot v Indijo.

Paziti moramo, da pojma Amerika ne zamenjujemo z Združenimi državami Amerike. V pogovornem jeziku namreč Amerika velikokrat pomeni samo ZDA.

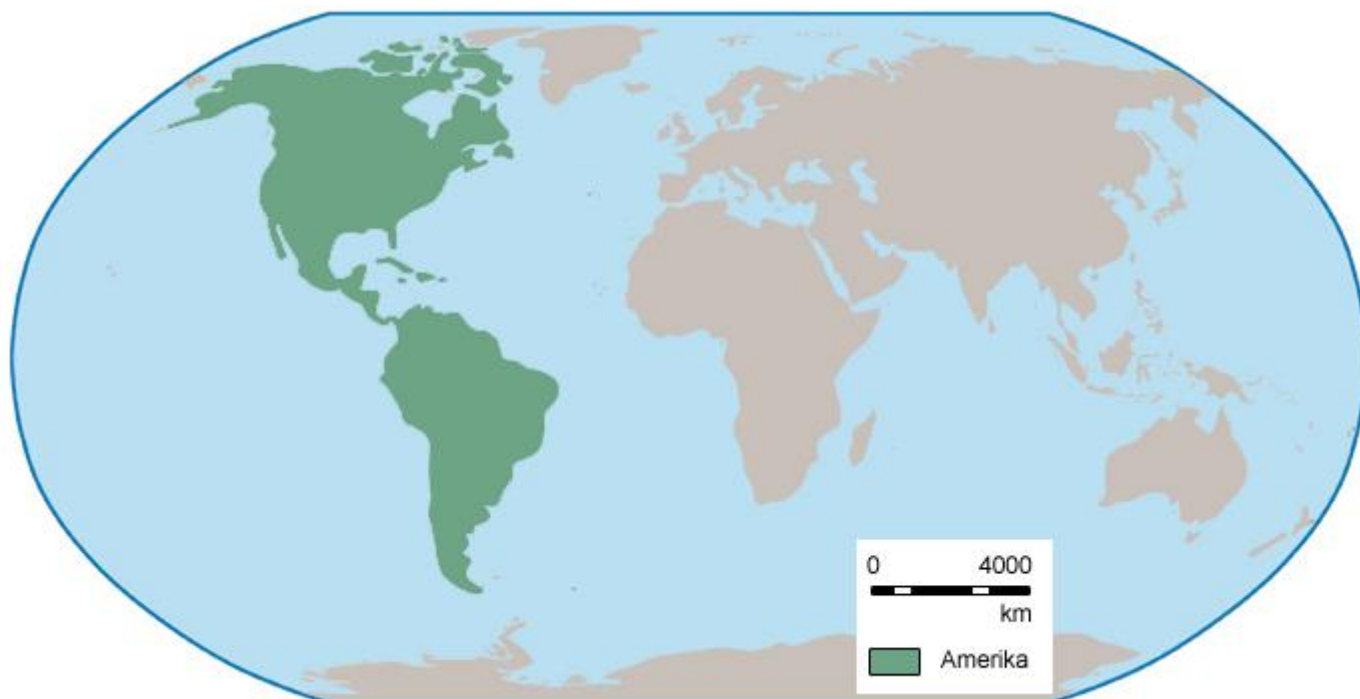
Ali veš?

Amerika je dobila ime po Amerigu Vespucciju, ki je prvi oznanil, da Krištof Kolumb ni pripotoval do Indije, ampak do nove celine. Napisal je tudi delo *Novi svet*, v katerem je prvi uporabil pojem *Novi svet* za Ameriko.

ODPRI UČBENIK NA STRANI 52 in PREBERI DO STR. 54!

Ko si prebral zgornja besedila, nadaljuj zapis v zvezek:

1. LEGA



S pomočjo Atlasa, str. 164 določi lego Amerike (pobarvanega območja) glede:

- Na ekvator
- Na začetni (grinviški poldnevnik)

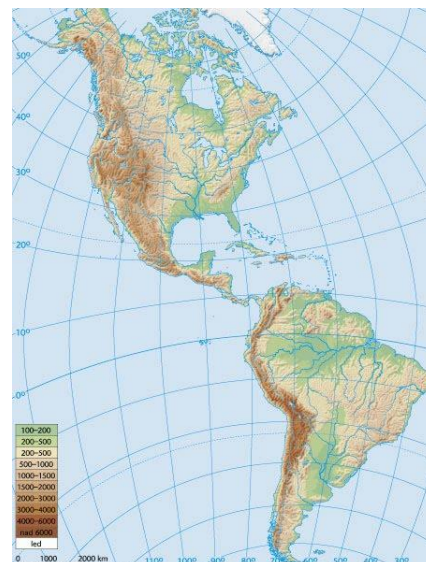
Kaj si zapisal? Preveri!

Glede na ekvator leži na S in J polobli.

Glede na začetni poldnevnik leži v celoti na zahodni polobli.

Naštej morja in oceane, ki jo oblivajo!

Kako bi opisal obliko, razčlenjenost obal, površje?



2. DELITEV

Ameriko lahko razdelimo na različne načine:

a) Delitev glede na naravne značilnosti:

**SEVERNA IN
JUŽNA AMERIKA**

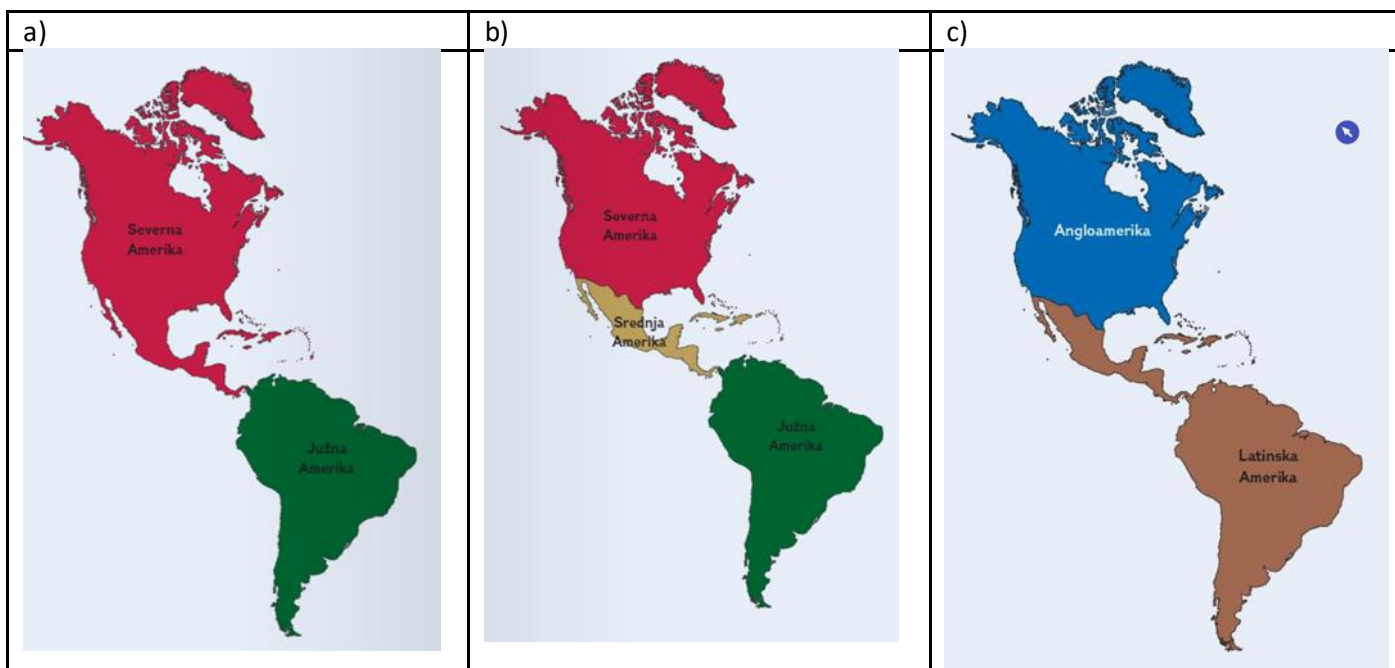
b) Delitev na 3 dele:

**SEVERNA,
SREDNJA IN
JUŽNA AMERIKA**

c) Delitev glede na družbene značilnosti:

ANGLOAMERIKA (prvotni priseljenci Angleži in Francozi, zato prevladuje angleški jezik, OBSEGA LE KANADO IN ZDA)

LATINSKA AMERIKA (prvotni priseljenci Španci in Portugalci, zato prevladujeta španščina in portugalsčina, ki izhajata iz latinščine)



Zgornje tri slike imaš za pomoč, da si lažje predstavljaš. Če si teh treh kart ne moreš natisniti, si jih v preprosti obliki skiciraj v zvezek in pobarvaj!

DOMAČA NALOGA ZA V ZVEZEK! NI MI POTREBNO POŠILJATI, BOM PA PREVERILA!



V zvezek nariši in izpolni manjkajoče!



- Z rdečo barvo vriši ekvator, severni in južni povratnik.
- Z modro barvo označi mejo med Angloameriko in Latinsko Ameriko. Z rumeno barvo pobarvaj Angloameriko, z oranžno Srednjo Ameriko in z rdečo Južno Ameriko.
- V prazne okvirje vpiši imena delov Amerike in oceanov.

■■■ Vaja 33: Geografska lega, delitev in časovni pasovi Amerike

Dopolni stavke z manjkajočimi besedami.

- a) Amerika leži vsa na _____ polobli. Njeno ozemlje sega na _____ in _____ poloblo. Srednja Amerika leži v celoti _____ od ekvatorja. Angloameriko so poselili večinoma _____ narodi. Srednja Amerika je po svojih gospodarskih in kulturnih značilnostih zelo podobna _____ Ameriki. Glavna jezika sta _____ in _____, ki sta se razvila iz _____.

Podčrtaj pravilno trditev. Pri tem si pomagaj s karto časovnih pasov v učbeniku ali atlasu.

Sonce vzhaja na vzhodu. Ko je pri nas poldne, je v Detroitu v ZDA:

- zgodnje jutro
- poldne (tako kot pri nas)
- večer

Besedilo na levi
prepiši v zvezek!

ATLAS,
str. 183!