

Pozdravljeni, osmošolci!

Prvomajske počitnice so za nami, še vedno delujemo na daljavo in tako bo tudi ostalo.....Ta teden sprašujemo, ne pozabi na tvoj datum! 😊

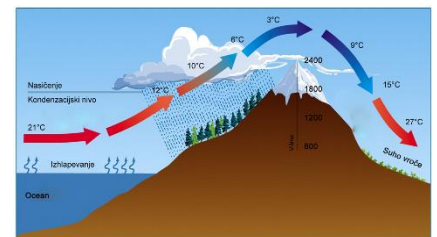
Kako je šlo spoznavanje NARAVNIH ENOT ANGLOAMERIKE? Upam, da si ponovil z atlasom in naredil označeni vaji.

Danes nadaljujemo

Nov naslov: **PODNEBJE IN RASTLINSTVO ANGLOAMERIKE**

Zapis v zvezek: Na podnebje v Angloameriki vplivajo naslednji dejavniki:

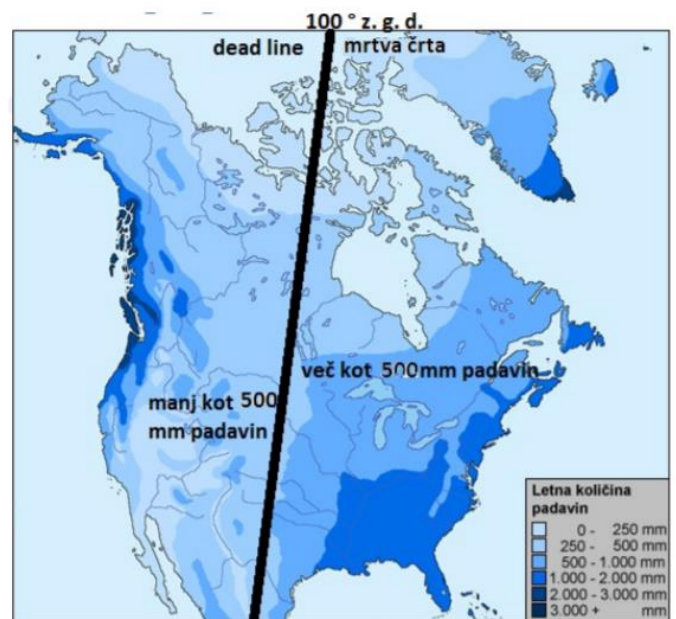
- GEOGRAFSKA LEGA (oddaljenost od ekvatorja) – *znaš razložiti?*
- ODDALJENOST OD MORJA - *znaš razložiti?*
- RELIEF - *znaš razložiti?*
- MORSKI TOKOVI



Kako na podnebje oz. razporeditev padavin vpliva relief?

VPLIV RELIEFA NA RAZPOREDITEV PADAVIN:

- Najbolj namočena območja: skrajni Z (ob Skalnem gorovju) in JV del celine (do Apalačev) *glej sliko zgoraj!*
- Najbolj suha območja: Velika kotlina (zaprti lega), skrajni S in osrednji del*
- MRTVA ČRTA ALI DEAD LINE (100° poldnevnik) – označuje območje, kjer Z od nje pade manj kot 500 mm padavin!



Osrednji del, ki nima gorskih pregrad, je območje značilnih vetrov – **TORNADOV**, ki nastanejo zaradi prodora hladnega zraka proti J in toplega proti S! <https://www.youtube.com/watch?v=-pbmTBFzqU8>

VPLIV MORSKIH TOKOV (UČ, str.60!)

Na podnebje vplivata:

- TOPEL ZALIVSKI TOK (JV obala proti S)
- HLADEN LABRADORSKI TOK (SV obala proti J)

Angloamerika se razprostira od S polarnega do subtropskega pasu. Zato imamo na tem območju prisotne različne podnebne tipe:

S pomočjo UČ, str. 62, 63 dopolni tabelo! Tabelo nariši v zvezek. Pusti si dovolj prostora za pisanje!

Tip podnebja	opis	Območje	rastlinstvo
POLARNO			tundra
ZMerno HLADNO PODNEBJE		Glej klimogram kraja Fort Simpson	tajga
CELINSKO		Glej klimogram kraja Minneapolis	Prerija - ?
SREDOZEMSKO		Glej klimogram kraja Los Angeles	sredozemsko
PUŠČAVSKO		Glej klimogram kraja Phoenix	Polpuščavsko in puščavsko
VLAŽNO SUBTROPNSKO		Glej klimogram kraja Miami	Borovi in subtropski listnati gozd
GORSKO			Višinski rastlinski pasovi

*pri opisu si pomagaj s klimogrami v UČ, str.61

Odgovori v zvezek:

- Zakaj imajo kraji na Labradorju nižje povprečne temperature kot kraji na Britanskem otočju, čeprav ležijo skoraj na isti geo. širini?

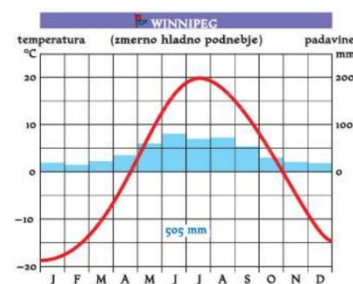
A) Poimenuj in opiši rastlinstvo na fotografiji.

B) V kaj so spremenjene površine, ki so porasle z rastlinstvom na fotografiji?

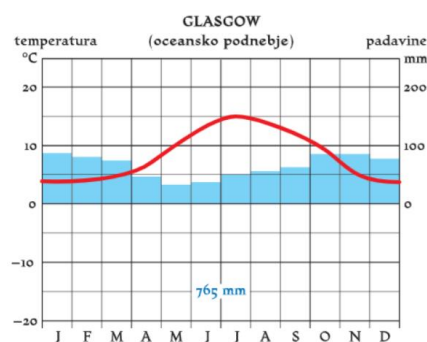
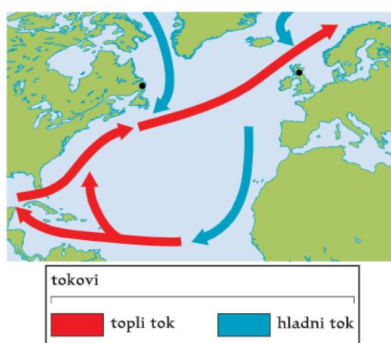
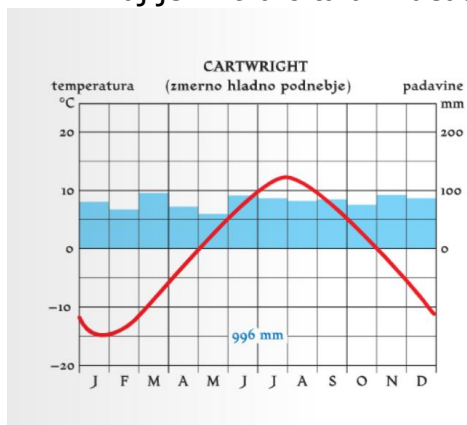
C) Kako imenujemo podobne naravne pokrajine v Evropi, Aziji in Afriki?



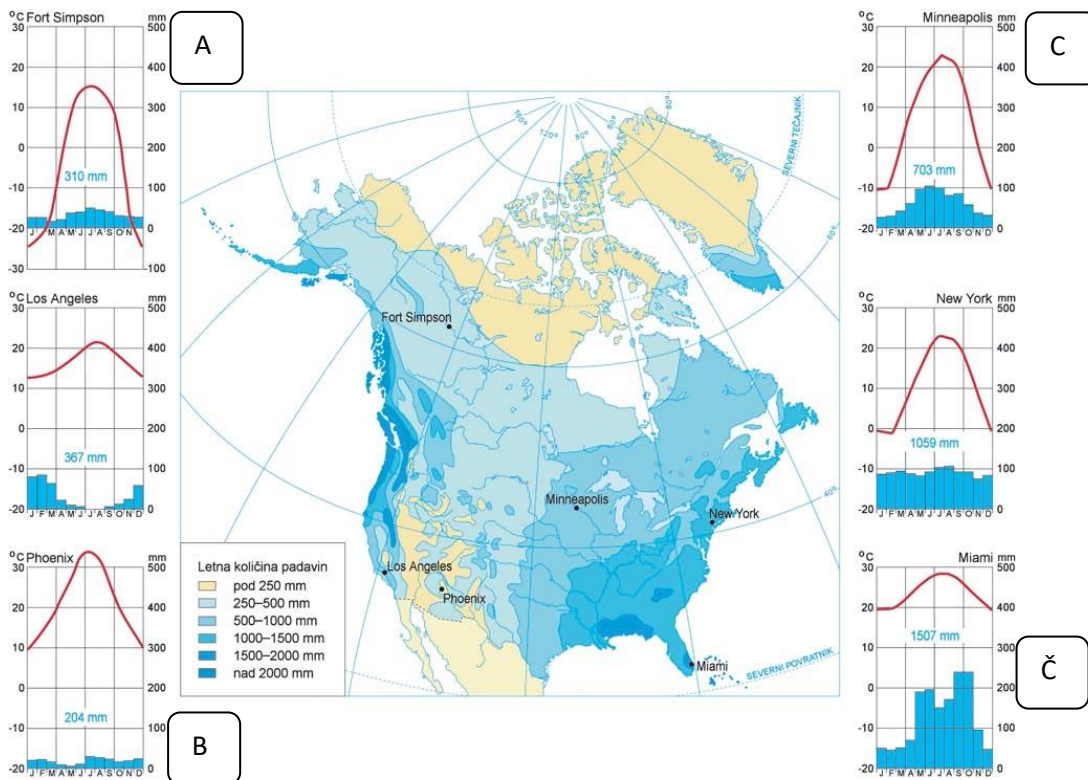
V zvezek čitljivo odgovori na vprašanja od a - g. Odgovore slikaj in mi jih pošlji do srede, 6. 5. 2020 na že znan naslov (andreja.sveticic@sola.velike-lasce.si)



- Kateri dejavniki vplivajo na podnebje v Angloameriki?
- Razloži njihov vpliv!
- Preko katerih toplotnih pasov se razprostira?
- Kateri deli dobijo največ padavin? Zakaj?
- Kateri deli dobijo najmanj padavin? Zakaj?
- Kaj je mrtva črta ali »dead line? Kje poteka, kaj označuje?



- a) Pojasni zakaj imajo kraji na Labradorju nižje povprečne temperature kot kraji na Britanskem otočju, čeprav so na enaki geografski širini?
- b) Kako podnebje vpliva na naravne in družbene pojave na Labradorju in v Zahodni in Severni Evropi?



c) Kako se spreminja količina padavin od vzhoda proti notranjosti in zakaj?

d) Na spodnje črte poimenuj podnebja, ki jih prikazujejo označeni klimogrami.

A _____
 B _____

C _____
 Č _____

č) Primerjaj podnebji, ki ju prikazujeta klimograma A in C.

Temperature:

Padavine

e) Podnebjem oz. klimogramom iz naloge d pripiši vrsto rastlinstva, ki tam prevladuje.

A _____
 C _____

B _____
 Č _____

f) Na območju prerij prevladuje posebna prst – prerijska črnica. Kako se je po naselitvi Evropejcev na to območje spremenila njegova gospodarska izraba?

g) Razloži pojma: TORNADO, SEKVOJA!