

Pozdravljeni, devetošolci!

Kot sem napovedala, boste imeli v ponedeljek, 11. 5. možnost reševati spletno nalogo. Povezava bo objavljena ob uri. Naloga bo odprta med 12.00 in 14.00 uro, kar pomeni, da boste imeli časa dovolj, tudi tisti, ki imate na voljo podaljšan čas. Po tem času naloge ne bo možno več reševati. Kdor se v tem času naloge ne bo rešil, bo dobil termin za ustno spraševanje, ki bo potekalo preko videokonference. **V kolikor veš, da ti ura ali način, zaradi kateregakoli razloga ne odgovarjata, mi piši, da se dogovoriva individualno.**

Pri delu si boš lahko pomagal z ročnim zemljevidom. O tem, koliko boš pošten do samega sebe (beri boš ali ne boš uporabljal za pomoč druge vire), pa bo seveda odvisno od tvoje vesti. Na koncu spletne naloge bo kriterij, ki ti bo prinesel oceno. Le ta se bo vpisala v redovalnico kot ustna ocena, če pa boš menil, da je tvoje znanje boljše, kot ga je ocena prikazala, pa se bova dogovorila za ustno preko videokonference.

Kaj pride v poštev?

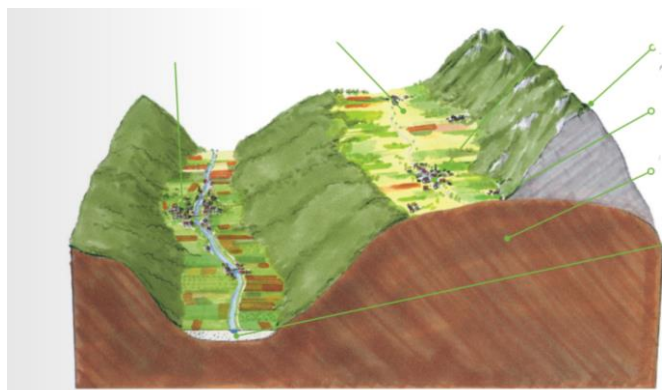
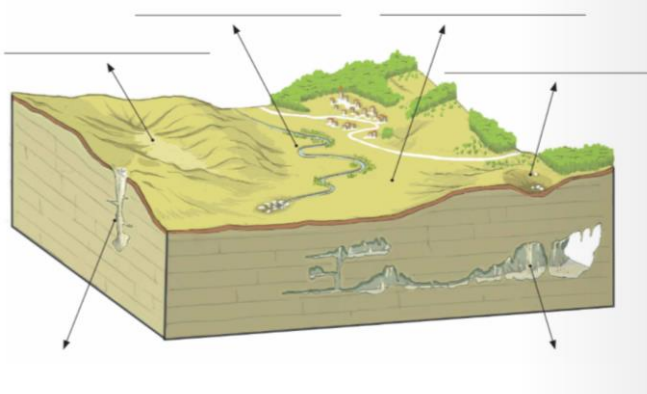
- Predalpske, Dinarskokraške in Obsredezemske pokrajine
- Pogled v arhivu posamezne naloge in vprašanja za ponavljanje (če jih ni v zvezku 😊)
- Spletna naloga bo zastavljena na primeru tiste o kraških pojavih
- V učbeniku pogled slikovno gradivo in ponovi:

	Predalpske p.	Dinarsko kraške p.	Obsredezemske p.
Legra			
Prevladujoča oblika površja			
Kamninska zgradba			
Delitev, deli			
Podnebje (klimogram)			
Vodovje			
Razporeditev padavin			
Poselitev			
Gospodarske dejavn.			
Industrija			
Naravne nesreče			
Onesnaž. okolja			
Zanimivosti			

POGLEJ SI PRIMERE NEKATERIH NALOG!

Poimenuj vrsto kamnine ali obliko naselja.

Na črte ob slikovnem gradivu vpiši značilne kraške pojave. Opiši njihove značilnosti.



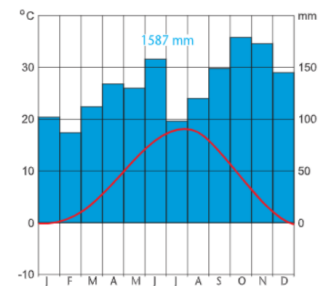
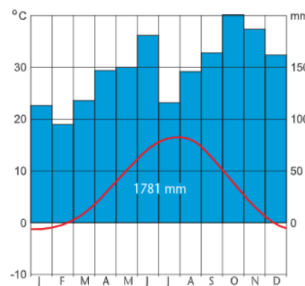
Prvine Predalpskih pokrajin na primeru Posavskega hribovja

Pojme v levem stolpcu smiselno poveži z besedami v desnem, in sicer tako, da pred vsakega vpišeš (le eno) ustrezno številko iz desnega stolpca.

- | | |
|---------------------------------|----------------------------|
| _____ hidroelektrarne | 1 Vitanjske Karavanke |
| _____ šotna barja | 2 Zgornja Savinjska dolina |
| _____ termoelektrarna | 3 Drava |
| _____ apnenčaste kraške planote | 4 Pohorje |
| | 5 Velenjska kotlina |

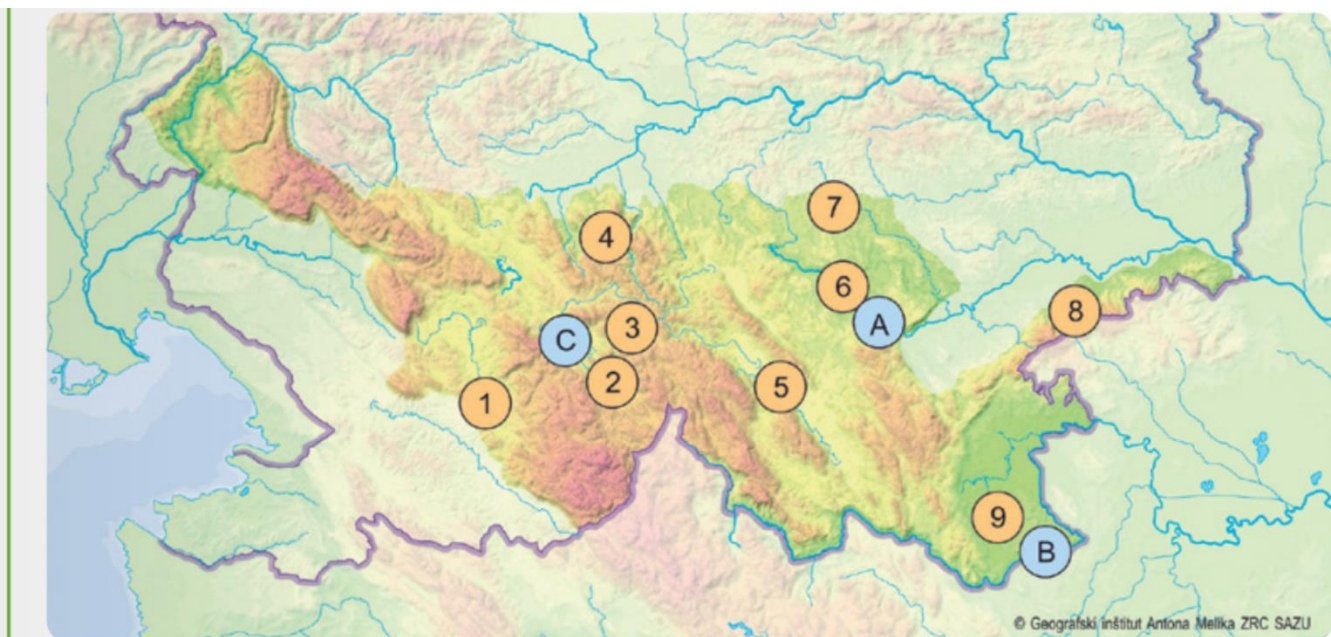
Eden od klimogramov prikazuje temperature in padavine na Nanosu (na nadmorski višini 905 m), drugi pa v Postojni (nadmorska višina 533 m). Poišči oba kraja na zemljevidu, analiziraj klimograma in na črto pod vsakim napiši, za kateri kraj gre. Odgovori na vprašanja.

a) Zakaj pade na Nanosu več padavin kot v Postojni?



b) Zakaj so temperature poleti in pozimi na Nanosu nižje kot v Postojni?

Poimenuj s številkami označene pokrajine!



Predalpske pokrajine:

PONOVI

1. Na zemljevidu poimenuj in pokaži posamezne dele Predalpskih pokrajin.
2. Na zemljevidu poišči večja mesta v Predalpskih pokrajinah in opiši njihovo lego.
3. Kaj je značilno za kamninsko zgradbo Predalpskih pokrajin?
4. Kaj je značilno za podnebje Predalpskih pokrajin?
5. Opiši značilnosti poselitve v Predalpskih pokrajinah.
6. Katere gospodarske dejavnosti so na tem področju prevladovale v preteklosti?
7. Katere gospodarske dejavnosti so značilne za posamezne dele Predalpskih pokrajin?
8. Opiši lego Ljubljanske kotline in jo pokaži na stenskem zemljevidu.
9. Opiši vlogo Ljubljane v Sloveniji.

RAZMISLI

1. Kateri dejavniki so vplivali na hitro industrializacijo Predalpskih pokrajin?
2. Naštet nekaj posledic industrializacije Predalpskih pokrajin.
3. Zakaj rudarstvo danes ni več tako pomembno?
4. Zakaj ima Ljubljanska kotlina velik pomen?

BI ZNAL ODGOVORITI
NA VPRAŠANJA?

Dinarskokraške pokrajine

PONOVI

1. Na zemljevidu poišči in poimenuj posamezne dele Dinarskokraških pokrajin.
2. S pomočjo zemljevida Slovenije poišči večje kraje v Dinarskokraških pokrajinah in pojasni njihovo lego.
3. Zakaj vplivi morja ne segajo daleč v notranjost Slovenije?
4. Kateri deli Dinarskokraških planot prejmejo največ padavin in zakaj?
5. Kaj je značilno za poselitev Dinarskokraških pokrajin?
6. Kateri dejavniki so vplivali na razvoj gospodarstva?
7. Katere gospodarske dejavnosti so pomembne danes?

RAZMISLI

1. Kakšna je vloga gozda v Dinarskokraških pokrajinah?
2. Zakaj v gozdovih Dinarskokraških pokrajin živijo različne zveri?
3. Primerjaj rečno omrežje Dinarskokraških pokrajin z omrežji drugih pokrajin v Sloveniji.
4. Primerjaj gospodarsko usmerjenost in razvitost Dinarskokraških pokrajin z ostalimi pokrajinami.
5. Zakaj je pomembno, da se na posameznih območjih razvijajo različne gospodarske dejavnosti?



KATERA OBLIKA POVRŠJA JE PRIKAZANA?

Obsredozemske pokrajine

PONOVI

1. Na zemljevidu poimenuj in pokaži posamezne dele Obsredozemskih pokrajin.
2. Kaj je značilno za podnebje in rastlinstvo Obsredozemskih pokrajin?
3. Kaj je burja in kako vpliva na življenje ljudi?
4. Kaj je značilno za poselitev Obsredozemskih pokrajin?
5. Katere gospodarske dejavnosti prevladujejo ob obali?
6. Katere gospodarske dejavnosti so značilne za flišne in katere za kraške pokrajine v notranjosti?
7. Opiši značilnosti slovenskega morja.
8. Katere dejavnosti so vezane na morje?
9. Zakaj je vpliv Tržaškega zaliva na podnebje majhen?
10. Zakaj kraške pokrajine nimajo površinskih vodnih tokov?
11. Na zemljevidu poišči Tržaški zaliv in opredeli njegovo lego.

RAZMISLI

1. Kako morje vpliva na naravne značilnosti Obsredozemskih pokrajin?
2. Katere dejavnosti so vezane na Luko Koper?
3. Kako pristanišče vpliva na razvoj celotnega območja?
4. Na kakšen način bi lahko zmanjšali število tovornih vozil na cestah v Obsredozemskih pokrajinah?



OBJEKT NA FOTOGRAFIJI?
VRSTA JEZERA V OZADJU?