

PREVERJANJE ZNANJA – družba

Čas je, da preverimo znanje družbe. Večji del snovi o dinarsko-kraškem svetu smo predelali še skupaj, z novo enoto pa se ukvarjamo na daljavo. Naloge rešuj v zvezek. Piši čitljivo, v celih povedih. **Rešeno preverjanje mi pošljite na že znani način do 22. 4.**

1. Primerjaj sliki.





Katera kraška pojava sta predstavljena?
Primerjaj ju, poišči 3 podobnosti in tri razlike.

2. Razloži nastanek kraške jame. S pomočjo zemljevida zapiši 5 kraških jam.

3. Kapniki so iz _____ . Razloži njihovo nastajanje.

4. Napiši vrsto kapnika:



5. Zakaj drži trditev, da je Ljubljanica kraška reka? Razloži in utemelji.

6. Katere šega in navade smo omenili v Beli krajini? Opiši tisto, ki se dogaja 23. aprila.

7. Dopolni tabelo:

področje	Prepoznavne značilnosti
Rakov Škocjan	
Planinska jama	
Cerkniško polje	
	Polje brez stalne ponikalnice
	Meji na obpanonski in predalpski svet

8. Razloži:

Krošnjar:

Pisanica:

Belokranjsko kolo:

Zidanica:


Požiralnik:

Človeška ribica:

9. Dobro poglej sliko.

Katero naravno enoto predstavlja?

Kaj opaziš pri rastlinah? Zakaj pride do tega pojava? Razloži.



Napiši 5 rastlin, ki so značilne za to pokrajino.

Napiši 5 živali, ki bi jih lahko opazil v tej pokrajini.