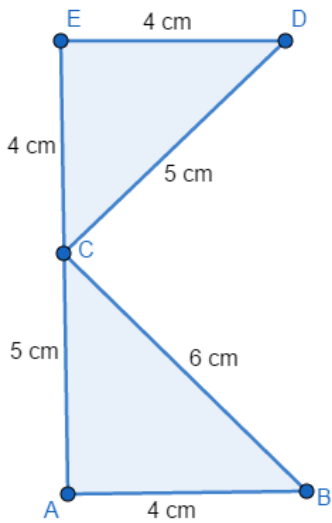
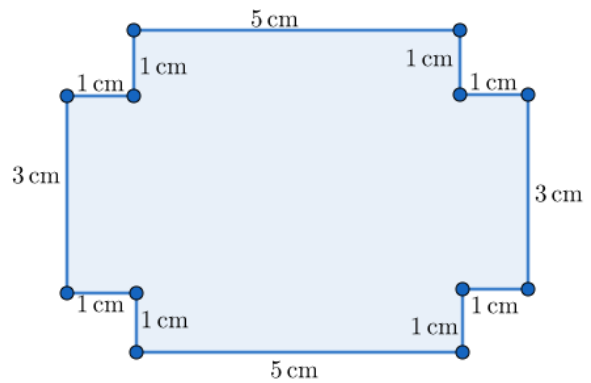


Dopolnilni pouk - ploščine in obsegi večkotnikov *teden 4*

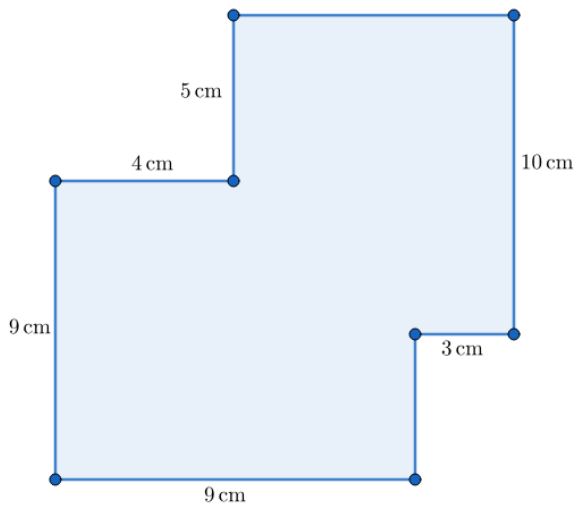
1. Izračunaj obseg in ploščino večkotnika na sliki.



2. Izračunaj obseg in ploščino večkotnika na sliki.



3. Izračunaj obseg in ploščino večkotnika na sliki



Rešitve;

1. $o = 28 \text{ cm}$, $p = 18 \text{ cm}^2$

2. $o = 24 \text{ cm}$, $p = 31 \text{ cm}^2$

3. $o = 52 \text{ cm}$, $p = 136 \text{ cm}^2$