


SREDA, 15. 4. 2020



SPOZNAVANJE OKOLJA

Danes bomo ponavljali.

1. Na spodnji povezavi pojdi na interaktivne prosojnice, izberi zavihka **Okrog sveta in Slovenija v Evropi**, ter si oglej podatke, ponazoritve ter reši naloge. Tako boš ponovil in utrdil svoje znanje.

<http://www.modrijan.si/modrijan-fl/>

2. Povezanost celin in držav sveta



Ali se spomnite, od kod vse prodajajo sadje in zelenjavo na tržnici? Ali so vsi pridelki zrasli v Sloveniji?

Banane ne rastejo v Sloveniji, ker ni dovolj toplo in ni primernih pogojev zanje. Kako pridejo v Slovenijo banane, mango, ingver in tropsko sadje?


Zelo malo držav je, ki vso hrano pridelajo same. Nekatere države pridelajo veliko sadja, od drugot pa kupijo žito. Vse države na svetu kupujejo, česar same ne pridelajo ter prodajajo, kar pridelajo. **Države so na ta način povezane in odvisne ena od druge.**

3. V zvezek prepisi vprašanja in nanje na kratko odgovori. Naslov je UTRJEVANJE.

1. Katere so glavne smeri neba?
2. Naštej državne simbole Slovenije.
3. Katere so sosednje države Slovenije?
4. Kako se imenuje celina, na kateri leži Slovenija?
5. Naštej celine, ki ležijo na Zemlji.
6. Pojasni, zakaj potrebujemo načrte in zemljevide?
7. Kdaj je Slovenija postala članica Evropske unije?



MATEMATIKA



Včeraj ste pisali preverjanje. Nekateri kar brez napak, čestitam! Največ težav pa so nekaterim povzročale besedilne naloge. Vedno bistvene podatke in vprašanje podčrtamo in nalogo beremo natančno in postopno. Zraven si lahko tudi kaj narišemo. Sem pa vesela, da vam poštevanka ni delala težav.

Primer 9. Naloge iz preverjanja.

9. **Žana** je stara **9** let. **Mamica** je **štirikrat starejša** od Žane. Nona **Milka** pa je **26** let **starejša** kot **mamica in Žana skupaj**. **Koliko je stara nona Milka?**

Žana: 9 let

mamica: $9 \cdot 4 = 36$

Milka: $9 + 36 + 26 = 72$

R: $9 \cdot 4 = 36$ $9 + 36 + 26 = 72$

O: Nona Milka je stara 72 let.

Koliko let imajo vse tri skupaj?

R: $9 + 36 + 72 = 116$

O: Vse tri skupaj imajo 116 let.

1. Za nalogo imate popravo preverjanja, ki sem ga poslal staršem po elektronski pošti.
2. V RJI reši str. 26.

SLOVENŠČINA


Rešitev včerajšnje naloge. Preglej in popravi.

3. naloga: DA, NE, DA, NE, DA

4. Naloga: c, č, č

6. Naloga: olimpijski simbol – zastava in ogenj, Grško mesto – Olimpija, Grški bog – Zeus






1. Poskušaj dopolniti miselni vzorec na str. **48 v DZ**. To narediš tako, da pri vsaki puščici dodaš tisto, kar si izvedel v zgornjih povedih.

PRIMER: Pri puščici PRVE ANTIČNE bomo dopisali: Grčija, Olimp, pred 2 800 leti. To smo namreč izvedeli.

NE POZABI NA VSAKODNEVNO GLASNO BRANJE.

LIKOVNA UMETNOST 2 uri

Danes boš risal po opazovanju, cvetoče drevo. Upam, da ni več pod snegom.



Nariši ga kar v zvezek za glasbo, ki je brezčrten. Uporabiš lahko barvice in flomastre.

Najprej si ga zunaj dobro oglej in opazuj barve in oblike. Kakšno je deblo, veje in cvetovi.

Riši čez celo stran in zapolni ves list. Izdelek lahko poslikaš in mi ga pošlješ, da ga pripnem na spletno stran.



Najprej nariši drevo z debelejšimi vejami. Nato dodaj manjše vejice in nato narišeš še cvetove. Pod drevo lahko dorišeš travo in cvetlice.

